



ESCOLA MUNICIPAL ARTHUR DA COSTA E SILVA

**26° e 27° ROTEIROS DE ATIVIDADES REMOTAS
2° TRIMESTRE**

26° ROTEIRO: DE 30 DE AGOSTO A 03 DE SETEMBRO

27° ROTEIRO: DE 8 A 10 DE SETEMBRO

**LEMBRANDO QUE DIA 06 É RECESSO PARA
OS ALUNOS E DIA 07 É FERIADO NACIONAL**

ALUNO(A): _____

TURMA: EDUCAÇÃO INFANTIL

**ESTAMOS FINALIZANDO O 2° TRIMESTRE DE
ATIVIDADES ESCOLARES. JÁ REALIZAMOS 25
ROTEIROS. PARABÉNS PELO ESFORÇO DE TODOS QUE
RECONHECEM A IMPORTANCIA DO ESTUDO, DO
APRENDIZADO, NA ORGANIZAÇÃO DA ROTINA MESMO
EM CASA, PRINCIPALMENTE NESTE CENÁRIO TÃO
DIFÍCIL DA COVID - 19**

CAMPOS DE EXPÊRIÊNCIA: O EU, O OUTRO E O NÓS; CORPO, GESTOS E MOVIMENTOS; TRAÇOS, SONS, CORES E FORMAS; ESCUTA, FALA PENSAMENTO E IMAGINAÇÃO; ESPAÇOS, TEMPOS, QUANTIDADES, RELAÇÕES E TRANSFORMAÇÕES.

**COMO VAMOS ESTUDAR OS
CONTEÚDOS?**

ATRAVÉS DAS ATIVIDADES IMPRESSAS ENVIADAS DIARIAMENTE PELA PROFESSORA.

**COMO VAMOS REGISTRAR O
QUE APRENDEMOS?**

POR MEIO DAS ATIVIDADES FEITAS DIRETAMENTE NESTE ROTEIRO.




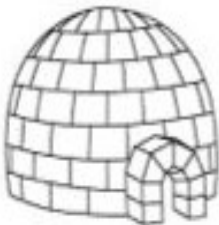







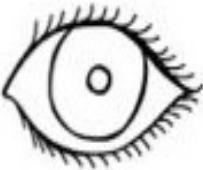
ESCOLA MUNICIPAL "ARTHUR DA COSTA E SILVA".

ALUNO (A): _____ DATA: 30/08/2021

PROFESSORA: SAMANTA

EDUCAÇÃO INFANTIL

ATIVIDADE 1: ESCREVA A LETRA INICIAL DO NOME DE CADA FIGURA:

				
<input type="text"/>	<input type="text"/>	<input type="text"/>	<input type="text"/>	<input type="text"/>
				
<input type="text"/>	<input type="text"/>	<input type="text"/>	<input type="text"/>	<input type="text"/>

ATIVIDADE 2: CIRCULE NAS PALAVRAS TODAS AS VOGAIS QUE ENCONTRAR:

A B E L H A

I L H A

O C A

U V A

E S C A D A

E L E F A N T E

O V E L H A

U R S O

A N E L

O L H O



ESCOLA MUNICIPAL "ARTHUR DA COSTA E SILVA".

ALUNO (A): _____ DATA: 31/08/2021


PROFESSORA: SAMANTA

EDUCAÇÃO INFANTIL

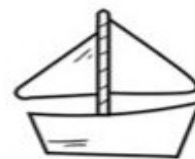
ATIVIDADE: OBSERVE A CENA E CONTE QUANTAS FIGURAS TEM DE CADA ELEMENTO E REGISTRE O NUMERAL CORRESPONDENTE.

0	1	2	3	4	5	6	7	8	9	10
---	---	---	---	---	---	---	---	---	---	----

QUANTOS SÃO?



CONTE OS DESENHOS IGUAIS E ESCREVA O NUMERAL CORRESPONDENTE:





ESCOLA MUNICIPAL "ARTHUR DA COSTA E SILVA".

ALUNO (A): _____ DATA: 01/09/2021

PROFESSORA: SAMANTA

EDUCAÇÃO INFANTIL

ATIVIDADE 1:

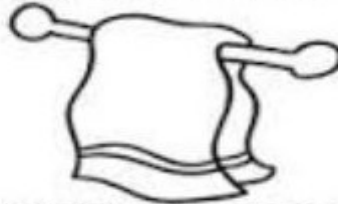
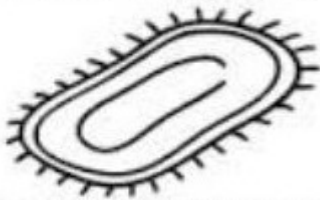
LENDO FRASES

LEIA E PINTA A FIGURA DE ACORDO COM A FRASE:


EU SOU A ABELHA.



EU SOU O TAPETE.



EU SOU A CASA.



EU SOU O SUCO.



ATIVIDADE 2: QUANTAS FIGURAS VOCÊ PINTOU? FAÇA UM X EM CIMA DO NÚMERO CORRESPONDENTE.

(9) (6) (0) (1) (8) (3) (7)



ESCOLA MUNICIPAL "ARTHUR DA COSTA E SILVA".




ALUNO (A): _____ DATA: 02/09/2021

PROFESSORA: SAMANTA

EDUCAÇÃO INFANTIL

NUMERANDO ACONTECIMENTOS

ATIVIDADE: OBSERVE AS CENAS E NUMERE AS FRASES DE ACORDO COM OS ACONTECIMENTOS E EM SEGUIDA PINTE-AS.



O SUSTO!

QUE SUSTO! A BANQUETA VIROU E AMANDA CAIU.

AMANDA VIU O POTE DE BISCOITOS EM CIMA DO ARMÁRIO DA COZINHA.

O POTE CAIU NA CABEÇA DE AMANDA E OS BISCOITOS CAÍRAM NO CHÃO.

ELA SUBIU NA BANQUETA PARA PEGAR O POTE DE BISCOITOS.



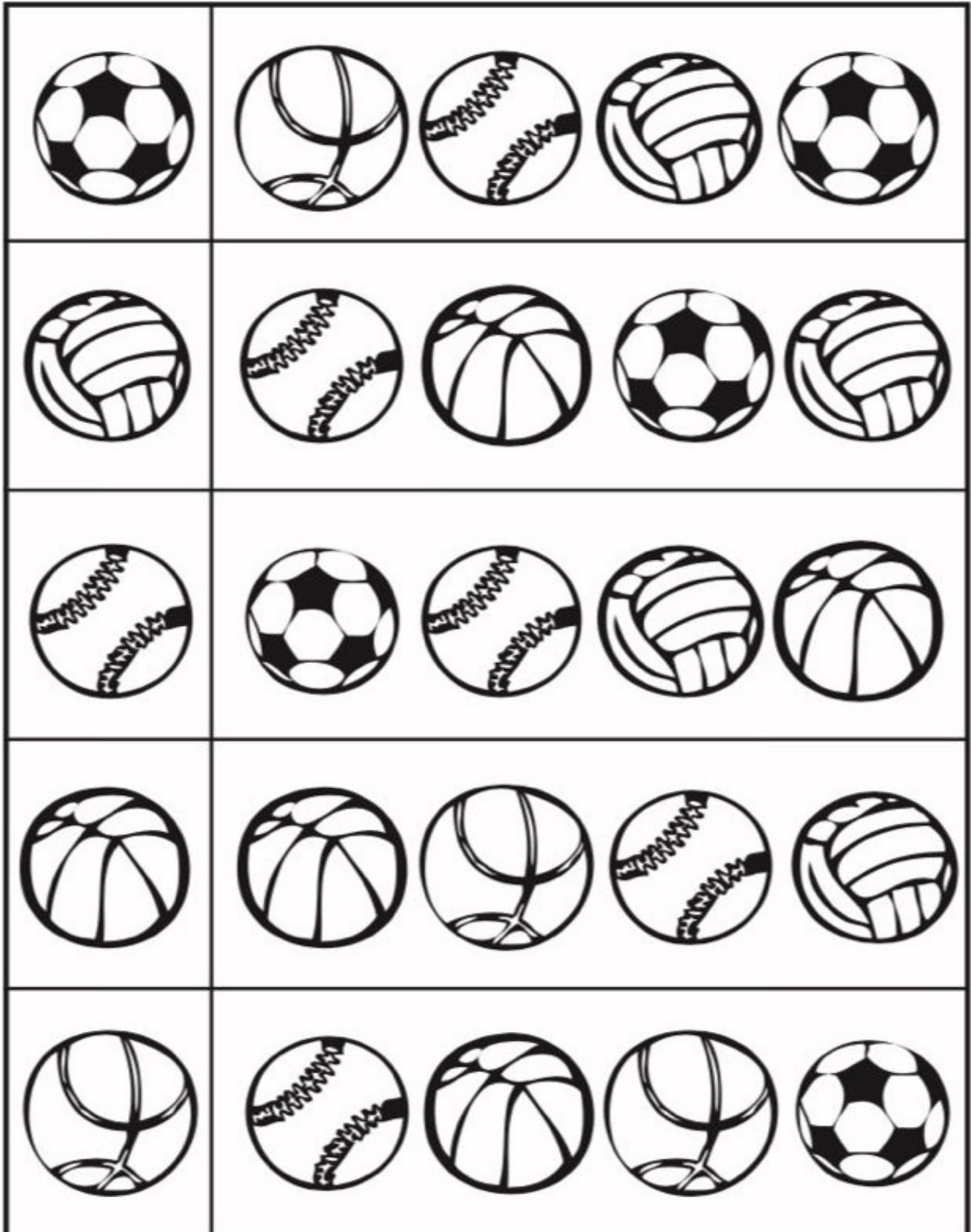
ESCOLA MUNICIPAL "ARTHUR DA COSTA E SILVA".

ALUNO (A): _____ DATA: 03/09/2021

PROFESSORA: SAMANTA

EDUCAÇÃO INFANTIL

ATIVIDADE: PINTE A BOLA IGUAL A QUE ESTÁ NO PRIMEIRO QUADRO DE CADA FILEIRA.





ESCOLA MUNICIPAL "ARTHUR DA COSTA E SILVA".

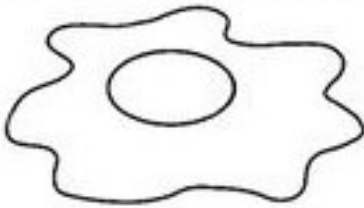
ALUNO (A): _____ DATA: 08/09/2021

PROFESSORA: SAMANTA

EDUCAÇÃO INFANTIL

ATIVIDADE: COMPLETE AS PALAVRAS COM AS VOGAIS E DEPOIS PINTE OS DESENHOS COM CAPRICHOS.

A - E - I - O - U



___ VO



___ LHA



___ SA



___ STRELA



___ VESTRUZ




___ VA



___ RSO



___ CULOS



___ LEFANTE



___ BELHA



___ GREJA



___ LHO



ESCOLA MUNICIPAL "ARTHUR DA COSTA E SILVA".



ALUNO (A): _____ DATA: 08/09/2021

PROFESSORA: SAMANTA


EDUCAÇÃO INFANTIL

ATIVIDADE:

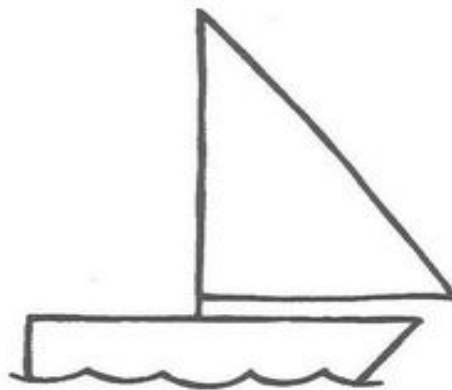
Pinte o primeiro desenho de amarelo.



Pinte o terceiro desenho de verde.



Pinte o segundo desenho de vermelho.





ESCOLA MUNICIPAL "ARTHUR DA COSTA E SILVA".





ALUNO (A): _____ DATA: 09/09/2021

PROFESSORA: SAMANTA

EDUCAÇÃO INFANTIL

ATIVIDADE:

CONTE E REGISTRE A QUANTIDADE



PINTE A QUANTIDADE INDICADA

4	
7	
8	







ESCOLA MUNICIPAL "ARTHUR DA COSTA E SILVA".

ALUNO (A): _____ DATA: 09/09/2021

PROFESSORA: SAMANTA

EDUCAÇÃO INFANTIL

ATIVIDADE 1: OBSERVE OS SÍMBOLOS E AS VOGAIS. EM SEGUIDA, ESCREVA DENTRO DOS SÍMBOLOS AS RESPECTIVAS VOGAIS, SEGUINDO O EXEMPLO.



ATIVIDADE 2: CONTE A QUANTIDADE DE CADA VOGAL E REGISTRE O NUMERAL NO QUADRADO.

A	<input type="text"/>	E	<input type="text"/>	I	<input type="text"/>	O	<input type="text"/>	U	<input type="text"/>
---	----------------------	---	----------------------	---	----------------------	---	----------------------	---	----------------------



ESCOLA MUNICIPAL "ARTHUR DA COSTA E SILVA".


ALUNO (A): _____ DATA: 10/09/2021






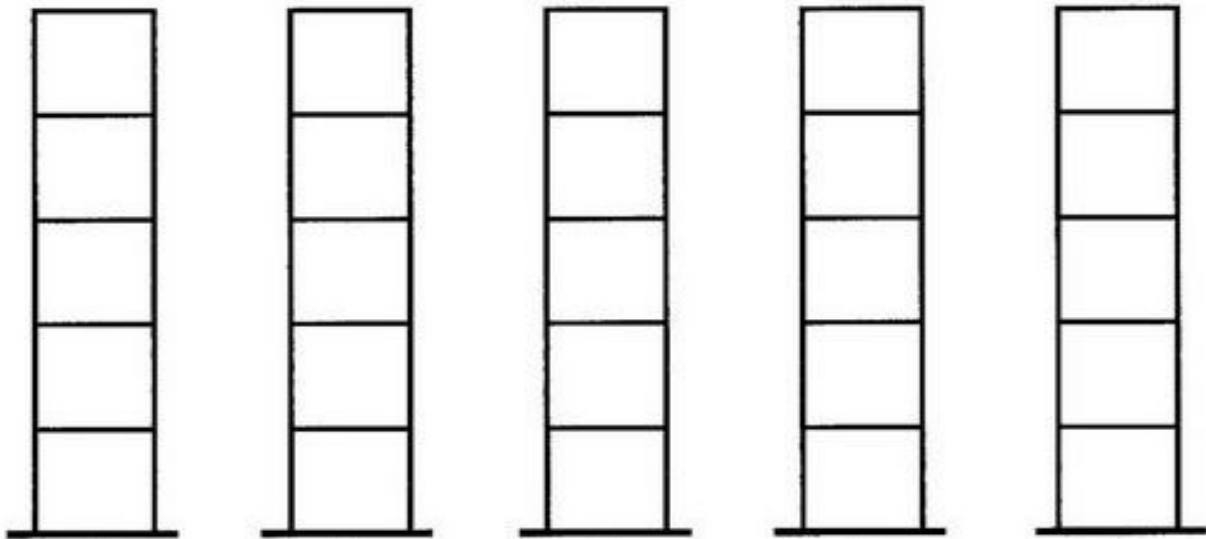
PROFESSORA: SAMANTA

EDUCAÇÃO INFANTIL

ATIVIDADE:

COLORINDO QUANTIDADES

 PINTE OS QUADRINHOS DE ACORDO COM O NÚMERO DE ELEMENTOS DE CADA CONJUNTO.





ESCOLA MUNICIPAL "ARTHUR DA COSTA E SILVA".

ALUNO (A): _____ DATA: 10/09/2021

PROFESSORA: SAMANTA

EDUCAÇÃO INFANTIL

ATIVIDADE: SIGA O EXEMPLO:

QUAIS AS
VOGAIS

QUANTIDADE DE
LETRAS NA PALAVRA




A A O

6


SAPATO




BONECA



FOGUETE



LAÇO



BICICLETA

